

**Ответы и указания к оцениванию образцов заданий проверочной работы по истории
для обучающихся 7-х классов образовательных организаций города Москвы**

№ задания	Ответ (эталон)	Макс. балл	Указания к оцениванию	Балл								
1	<div>Установите соответствие между событиями (процессами) и их участниками: к каждой позиции из первого столбца подберите соответствующую позицию из выпадающего списка.</div> <table><thead><tr><th>СОБЫТИЯ (ПРОЦЕССЫ)</th><th>УЧАСТНИКИ</th></tr></thead><tbody><tr><td>введение единой системы денежного обращения в России</td><td><div>Елена Глинская</div></td></tr><tr><td>издание Новоторгового устава</td><td><div>А.Л. Ордин-Нащокин</div></td></tr><tr><td>начало реформации в Германии</td><td><div>Мартин Лютер</div></td></tr></tbody></table>	СОБЫТИЯ (ПРОЦЕССЫ)	УЧАСТНИКИ	введение единой системы денежного обращения в России	<div>Елена Глинская</div>	издание Новоторгового устава	<div>А.Л. Ордин-Нащокин</div>	начало реформации в Германии	<div>Мартин Лютер</div>	2	Ответ совпадает с эталоном	2
		СОБЫТИЯ (ПРОЦЕССЫ)	УЧАСТНИКИ									
		введение единой системы денежного обращения в России	<div>Елена Глинская</div>									
издание Новоторгового устава	<div>А.Л. Ордин-Нащокин</div>											
начало реформации в Германии	<div>Мартин Лютер</div>											
			Допущена одна ошибка	1								
			Другие варианты	0								
2	<div>Прочтите отрывок из исторического источника и выполните задания 2 и 3.</div> <div>Приказ тайных дел; а в нём сидят дьяк да подьячих с 10 человек, и ведают они, и делают дела всякие царские, тайные и явные; и в тот Приказ бояре и думные люди не входят и дел не ведают, кроме самого царя. А посылаются того Приказу подьячие с послами в государства, и на посольские съезды, и в войну с воеводами, для того что послы в своих посольствах много чинят не к чести своему государю, в проезде и в разговорных речах... а воеводы в полках много неправды чинят над ратными людьми, и те подьячие над послами и над воеводами подсматривают и царю, приехав, рассказывают... А устроен тот Приказ при нынешнем царе, для того чтоб его царская мысль и дела исполнились все по его хотению, а бояре б и думные люди о том ничего не ведали. Да в том же Приказе ведомы гранатного дела мастера и всякое гранатное дело и заводы: а на строение того гранатного дела и на заводы деньги, на покупку и на жалованье мастеровым людям берут из разных приказов, откуда царь велит...</div> <div>А. Назовите упомянутого в отрывке «нынешнего царя».</div> <div>Ответ: <div>Алексей Михайлович</div>.</div> <div>Б. Укажите название государства, с которым в период правления этого царя Россия вела наиболее длительную войну.</div> <div>Ответ: <div>Речь Посполитая</div>.</div>	1	А									
			Ответ совпадает с эталоном.	1								
			Другие варианты.	0								
		1	Б									
			Ответ совпадает с эталоном.	1								
			Другие варианты.	0								

3	<div>Прочтите отрывок из исторического источника и выполните задания 2 и 3.</div> <div><p>Приказ тайных дел; а в нём сидят дьяк да подьячих с 10 человек, и ведают они, и делают дела всякие царские, тайные и явные; и в тот Приказ бояре и думные люди не входят и дел не ведают, кроме самого царя. А посылаются того Приказу подьячие с послами в государства, и на посольские съезды, и в войну с воеводами, для того что послы в своих посольствах много чинят не к чести своему государю, в проезде и в разговорных речах... а воеводы в полках много неправды чинят над ратными людьми, и те подьячие над послами и над воеводами подсматривают и царю, приехав, сказывают... А устроен тот Приказ при нынешнем царе, для того чтоб его царская мысль и дела исполнились все по его хотению, а бояре б и думные люди о том ничего не ведали.</p><p>Да в том же Приказе ведомы гранатного дела мастера и всякое гранатное дело и заводы: а на строение того гранатного дела и на заводы деньги, на покупку и на жалованье мастеровым людям берут из разных приказов, откуда царь велит...</p></div> <div><p>Как, согласно данному отрывку, обеспечивалась особая секретность Приказа, о котором идёт речь в данном отрывке, предполагавшая недоступность информации о его деятельности для приближённых царя?</p><p>Зачем, согласно данному отрывку, подьячие, служившие в Приказе, отправлялись с послами и воеводами? Выделите в тексте правильные ответы.</p><p>Чтобы выбрать нужную часть предложения, щёлкните левой кнопкой мыши в любом её месте. После чего часть предложения выделится фоном. Чтобы отменить выбор, щёлкните повторно левой кнопкой мыши в любом месте этой части предложения.</p></div> <div><div>Ответ:и в тот Приказ бояре и думные люди не входят и дел не ведают, кроме самого царя.</div><div>и те подьячие над послами и над воеводами подсматривают и царю, приехав, сказывают...</div></div>	2	<table><tr><td>Ответ совпадает с эталоном</td><td>2</td></tr><tr><td>Допущена одна ошибка</td><td>1</td></tr><tr><td>Другие варианты</td><td>0</td></tr></table>	Ответ совпадает с эталоном	2	Допущена одна ошибка	1	Другие варианты	0
Ответ совпадает с эталоном	2								
Допущена одна ошибка	1								
Другие варианты	0								

4

Рассмотрите карту и выполните задания 4 и 5.



Назовите имя предводителя, который возглавил поход восставших крестьян, холопов, казаков на Москву.

Ответ: .

1

Ответ совпадает
с эталоном

Другие варианты

1	0
---	---

0

5

Рассмотрите карту и выполните задания 4 и 5.



А. Отметьте на карте-схеме город, в котором началось формирование Второго народного ополчения.

Б. Напишите название государства, с которым Россия подписала Деулинское перемирие.

Ответ: Польша

1

А

Ответ совпадает с эталоном.

1

Другие варианты.

0

1

Б




Ответ совпадает с эталоном.

1

Другие варианты.

0

6	<p>А. Какой из приведённых исторических фактов можно использовать для аргументации следующей точки зрения: «Внешняя политика России в последние 10 лет царствования Ивана IV была неудачной»?</p> <div><input type="radio"/> битва при Молодях</div> <div><input checked="" type="radio"/> заключение Плюсского перемирия со Швецией</div> <div><input type="radio"/> начало проведения политики опричнины</div>	1	А																
	<p>Б. Какие суждения являются аргументами в подтверждение точки зрения «Внешняя политика России в последние 10 лет царствования Ивана IV была неудачной»? Для каждого суждения выберите соответствующую ячейку таблицы.</p> <table><tr><th>УТВЕРЖДЕНИЯ</th><th>ДА</th><th>НЕТ</th></tr><tr><td>По Плюсскому перемирию Россия утратила Ивангород, Ям, Копорье и Корелу.</td><td><input checked="" type="radio"/></td><td><input type="radio"/></td></tr><tr><td>Разногласия и постоянные споры царя с Алексеем Адашевым мешали успешному ведению военных действий в Ливонской войне.</td><td><input type="radio"/></td><td><input checked="" type="radio"/></td></tr><tr><td>Потеря доступа к значительной части российского побережья Балтийского моря ограничивала возможность торговли с Западной Европой.</td><td><input checked="" type="radio"/></td><td><input type="radio"/></td></tr><tr><td>Поражение польского короля Стефана Батория под Псковом позволило России выиграть Ливонскую войну.</td><td><input type="radio"/></td><td><input checked="" type="radio"/></td></tr></table>	УТВЕРЖДЕНИЯ	ДА	НЕТ	По Плюсскому перемирию Россия утратила Ивангород, Ям, Копорье и Корелу.	<input checked="" type="radio"/>	<input type="radio"/>	Разногласия и постоянные споры царя с Алексеем Адашевым мешали успешному ведению военных действий в Ливонской войне.	<input type="radio"/>	<input checked="" type="radio"/>	Потеря доступа к значительной части российского побережья Балтийского моря ограничивала возможность торговли с Западной Европой.	<input checked="" type="radio"/>	<input type="radio"/>	Поражение польского короля Стефана Батория под Псковом позволило России выиграть Ливонскую войну.	<input type="radio"/>	<input checked="" type="radio"/>	2	Б	
		УТВЕРЖДЕНИЯ	ДА	НЕТ															
		По Плюсскому перемирию Россия утратила Ивангород, Ям, Копорье и Корелу.	<input checked="" type="radio"/>	<input type="radio"/>															
Разногласия и постоянные споры царя с Алексеем Адашевым мешали успешному ведению военных действий в Ливонской войне.	<input type="radio"/>	<input checked="" type="radio"/>																	
Потеря доступа к значительной части российского побережья Балтийского моря ограничивала возможность торговли с Западной Европой.	<input checked="" type="radio"/>	<input type="radio"/>																	
Поражение польского короля Стефана Батория под Псковом позволило России выиграть Ливонскую войну.	<input type="radio"/>	<input checked="" type="radio"/>																	
Ответ совпадает с эталоном.	2																		
Допущена одна ошибка.	1																		
Другие варианты.	0																		
7	<p>Заполните таблицу «События Отечественной и Всемирной истории XVI–XVII веков», используя выпадающие списки.</p> <table><tr><th>Дата</th><th>События Отечественной истории</th><th>События Всемирной истории</th></tr><tr><td>1570-е гг.</td><td>Битва при Молодях</td><td>Варфоломеевская ночь</td></tr><tr><td>1590-е гг.</td><td>введение «урочных лет»</td><td>Нантский эдикт</td></tr><tr><td>1640-е гг.</td><td>Соляной бунт</td><td>Вестфальский мир</td></tr></table>	Дата	События Отечественной истории	События Всемирной истории	1570-е гг.	Битва при Молодях	Варфоломеевская ночь	1590-е гг.	введение «урочных лет»	Нантский эдикт	1640-е гг.	Соляной бунт	Вестфальский мир	2	Ответ совпадает с эталоном	2			
	Дата	События Отечественной истории	События Всемирной истории																
	1570-е гг.	Битва при Молодях	Варфоломеевская ночь																
	1590-е гг.	введение «урочных лет»	Нантский эдикт																
1640-е гг.	Соляной бунт	Вестфальский мир																	
Допущена одна ошибка	1																		
Другие варианты	0																		

8	<p>Ознакомьтесь с приведённым перечнем и изображениями памятников культуры и выполните задания 8 и 9.</p> <p>Какие из приведённых памятников культуры были созданы в XVI в.? Выберите два памятника культуры.</p> <p><input checked="" type="checkbox"/> «Государев родословец» <input type="checkbox"/> «Калязинская челобитная»</p> <div> <div> <input checked="" type="checkbox"/>  </div> <div> <input type="checkbox"/>  </div> </div>	2	Ответ совпадает с эталоном	2
			Допущена одна ошибка	1
			Другие варианты	0
9	<p>Ознакомьтесь с приведённым перечнем и изображениями памятников культуры и выполните задания 8 и 9.</p> <p>Создателем какого из приведённых памятников культуры был Симон Ушаков?</p> <p><input type="radio"/> «Государев родословец» <input type="radio"/> «Калязинская челобитная»</p> <div> <div> <input type="radio"/>  </div> <div> <input checked="" type="radio"/>  </div> </div>	1	Ответ совпадает с эталоном	1
			Другие варианты	0

10



А. В какой по счёту год с начала Великой Отечественной войны произошли события, которым посвящён данный памятник?

Ответ: .

Б. Выберите верные утверждения о событии, которому посвящён памятник, изображённый на фотографии.

☒ В число защитников Москвы входили части народного ополчения, сформированные из москвичей.

☐ Событие, которому посвящён памятник, происходило в летние месяцы.

☐ Изображённый на фотографии памятник посвящён подвигу девушек-зенитчиц.

☐ Одним из участников события, которому посвящён изображённый на фотографии памятник, был М.И. Кутузов.

☒ Подвиги москвичей на фронтах Великой Отечественной войны увековечены в названиях московских улиц.

1

А

Ответ совпадает с
эталоном

1

Другие варианты

0

2

Б

Ответ совпадает с
эталоном

2

Допущена одна
ошибка

1

Другие варианты

0